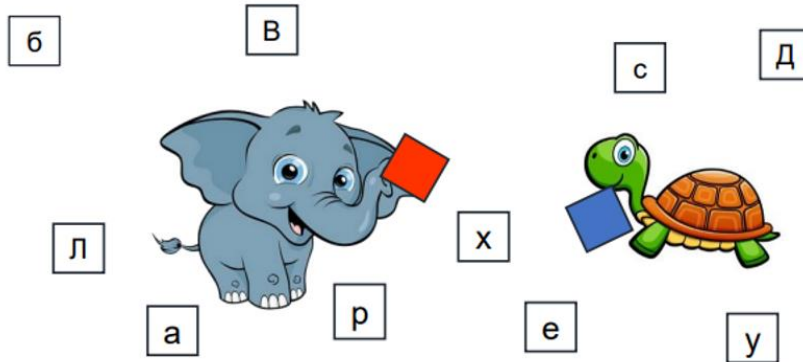


Сургууль..... Анги Сурагчийн нэр.....

Монгол хэл 1-р анги

1. Яст мэлхий ГИЙГҮҮЛЭГЧ, заан ЭГШИГ үсэг цуглуулжээ. Будаж үзүүлээрэй. /1 оноо /



2. Тохирох урт, хос эгшиг нөхөж бичээд үг бүтээгээрэй. /2оноо /

С . . Х Х . . Х . . Р С . . М


3. Эхийг анхааралтай уншаад асуултын зөв хариултыг будаарай. /1.5 оноо/

Шар шувуу

Шар шувуу шөнө сайн харна. Шар шувуу - аар хооллоно. Шүр, Анун 2 шар шувуу харсан. Шинээ шар шувууны үүр хийсэн. Шар шувуу хөөрхөн.

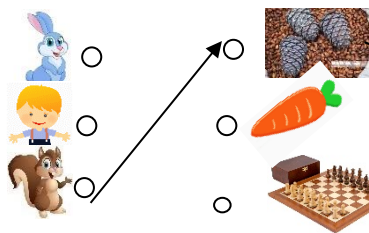
Шар шувуу хэзээ сайн хардаг вэ?	Шар шувуу юугаар хооллодог вэ?	Шинээ шар шувуунд юу хийсэн бэ?
 <input type="radio"/> <input type="radio"/>	 <input type="radio"/> <input type="radio"/> <input type="radio"/>	 <input type="radio"/> <input type="radio"/> <input type="radio"/>

4. Амьтдыг нэрлэж бичихдээ дутуу үсгийг нөхөөрэй. /2.5оноо/



5. Өгүүлбэрийг уншаад тохирох зурагтай холбоорой.


/2оноо/



- Дорж шатар сурлаа.
- Хэрэм самар хураалаа.
- Туулай лууван оллоо.

6. Зургийг нэрлэж бичээрэй.

/2оноо/



.....

.....


.....

.....

7. Өгүүлбэрийг зөв дараалалд оруулж бичээрэй.

/1оноо/

мөөг түүлээ. Даваа, олон Сүмбэр нар



8. Үгсийг **ХОЛБОО ҮГ** болгоод зөв цэвэр хуулж бичээрэй.

/4 оноо/

Аадар, алаг, бат, бөмбөг, ногоон, бороо, бэх, арц

.....

.....

.....

.....

.....

.....

.....

.....

.....

.....

.....

.....

.....

.....

.....

.....

.....

.....

.....

.....

.....

.....

.....

Математик 1-р анги


1. Аль аравтад ойр байгааг бичээрэй.

/3оноо/

30 31 32 33 34 35 36 37 38 39 40 41 42 43 44 45 46 47 48 49 50

- 32 нь 30-д ойр байна.

2. Амьтдыг арав,арваар багцлан нийлбэр хэлбэрт бичиж бодоорой. \2оноо



10 + 2 = 12

+ =

+ =

3. Ажиглаад орхигдсон тоог нөхөөрэй.

/2оноо/

$7+9 < 8+ \square$

$20-8 > 6+ \square$

4. Сондгой тоонуудаас бүтсэн дугаарыг олж дугуйлаарай

/1оноо/

а. 2, 4, 6

б. 1, 3, 5

в. 1, 2, 3

5. Цагийн зургийг ажиглаж асуултад хариулаарай.

/2оноо/

А. Цаг хэд болж байгааг зөв сонгоорой.

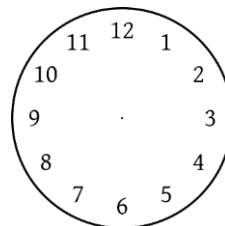
Б. 10:00 цагийн зүүг зураарай.



А. 12:00

Б. 09:00

В. 10:00



6. Мөнгөн дэвсгэрт дээр хасах үйлдлийг гүйцэтгээрэй.

/1.5оноо/

$60 - 40 =$	$50 - 20 =$	$70 - 50 =$

7. Зураг болон загварыг ажиглан , илэрхийлэл бичээд бодоорой.

/2оноо/

<input type="text"/> + <input type="text"/> = <input type="text"/>	<input type="text"/> + <input type="text"/> = <input type="text"/>	<input type="text"/> + <input type="text"/> = <input type="text"/>	<input type="text"/> + <input type="text"/> = <input type="text"/>

8. Дүрсүүдийг ажиглаад , тохирох үгтэй холбоорой.

/3.5оноо/

<input type="text"/>	<input type="text"/>	<input type="text"/>	<input type="text"/>
<input type="text"/>	<input type="text"/>	<input type="text"/>	<input type="text"/>

гурвалжин гурвалжин биш

9. Дараах зургийг сайн ажиглаарай. Өдөр бүр хийдэг ажлуудаа дарааллаар нь дугаарлаарай.

/2 оноо /

--	--	--	--	--	--

Нийт- 19 оноо