


1. Дотны найзынхаа нэрийг бичээд талархал бичээрэй. /2 оноо/




талархал

2. Дараах үгийг үеийн тоогоор хүснэгтэд ангилан бичээрэй /3 оноо/

сар, дуучин, өгөхдөө, хэрэглээ, дэвтэр, байр, ширээ, элдэв, самар, энэ, үлдсэн, хэл

Нэг үетэй үг	Хоёр үетэй үг	Гурван үетэй үг

3.Зургийг ажиглаад 4 өгүүлбэртэй эх зохион бичээрэй. /5 оноо/



4. Үеүдээр үг бүтээж, эсрэг утгатай үг бичээрэй.

/2 оноо/

а хял муу сэ гөх
тах хэ сай вах ун
хай рэх хан бар
цүү ө

Handwriting practice grid with four columns and four rows of lines.

5. Гутал ҮГ ХЭЛДЭГ байсан бол эзэндээ юу гэж хэлэх бол? /2 оноо/



6. Хэлц үгийн утгыг тайлбарлан бичээрэй.

\2 оноо\

Зүү орох зайгүй – _____

Санаа нийлэх - _____

7. Үгэнд “- ыг, -ийг “ тохирохыг залгаж бичээрэй.

\3 оноо\

хоргол _____

Дондог _____

сахил _____

үнэр _____

өндөг _____

хужир _____

8. Үгсийг зөв байрлуулж зүйр үг бүтээгээрэй.

[2оноо]

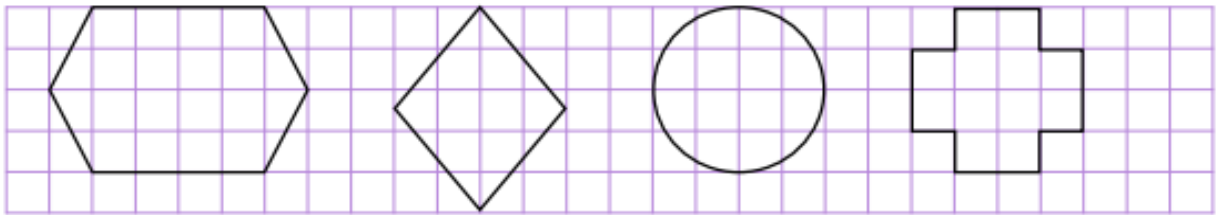
мэдэхэд ном уншиж сайхан
нөхөр сайхан ярихад уулзаж

.....
.....


Нийт- 21оноо

МАТЕМАТИК – 2

1. Дүрсийг 4 тэнцүү хэсэгт хуваагаад хагасын хагасыг будаарай. /2оноо/


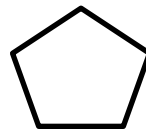

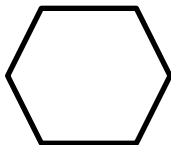


2. Хүү 20 алимыг 8,8-аар багцлав. Багцад ороогүй хэдэн алим үлдэх вэ? /2оноо/



3. Дүрсүүдийг нэрлэн бичээрэй.

/2оноо/



.....

.....

.....

.....

4.Ахын биеийн жин 85кг, эгчийнх 60 кг бол ах, эгч 2-ын биеийн жин нийт хэдэн кг вэ? Ах эгч 2-ын биеийн жин хэдэн кг-ын зөрүүтэй вэ? /3оноо/

зураглал

бодолт

шалгах



5.Өөрийн шалгалтын цаасны хүрээний уртыг хэмжээд хэмжээг бичээрэй. Хүрээний уртыг олоорой. /2оноо/

Урт-
Өргөн-



6. Хүснэгтийг ажиглаад асуултад хариулаарай.

/1.5 оноо/

Хэдэн мөр байна вэ?
 Мөр бүрт хэдэн нүд байна вэ? ...
 Нийт хэдэн нүд байна вэ?....

