



БОЛОВСРОЛ,  
ШИНЖЛЭХ УХААНЫ ЯАМ



БОЛОВСРОЛ, ШИНЖЛЭХ УХААНЫ ЯАМ  
БОЛОВСРОЛЫН ҮНЭЛГЭЭНИЙ ТӨВ

## ГҮЙЦЭТГЭЛИЙН ҮНЭЛГЭЭ-2023 БАГА БОЛОВСРОЛ



# МАТЕМАТИК

БАГАНАН КОД  
НААХ ХЭСЭГ

Аймаг / дүүрэг: .....

Сум / сургууль: .....

Анги / бүлэг: .....

Сурагчийн овог: .....

Сурагчийн нэр: .....

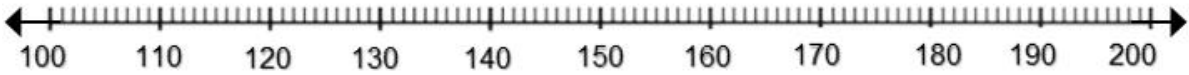
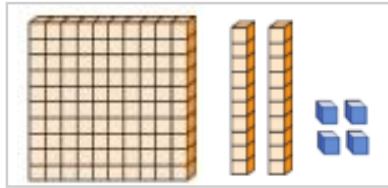
Сурагчийн код: .....



Засалтын хүснэгт

Даалгаврын дугаар	Авсан оноо
I	
II	
III	
IV	
V	
VI	A
	Б
VII	
VIII	
IX	A
	Б

1 Загварт тохирох тоог тоон шулуун дээр цэгээр тэмдэглээрэй.



2 Цагийг ажиглаад, зөв тохируулан холбоно уу.

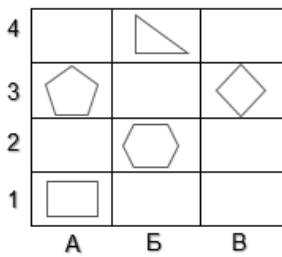


- 6:35
- 7:30
- 6:30


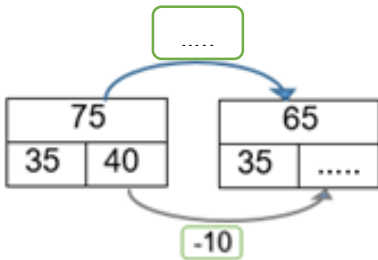
3 Харандааны уртын хэмжээг бичээрэй.





4 Таван өнцөгт дүрсийн байршлыг бичээрэй.




5 Гишүүдийн хамаарлыг ажиглаад, цэгийн оронд тохирох тоонуудыг бичээрэй.



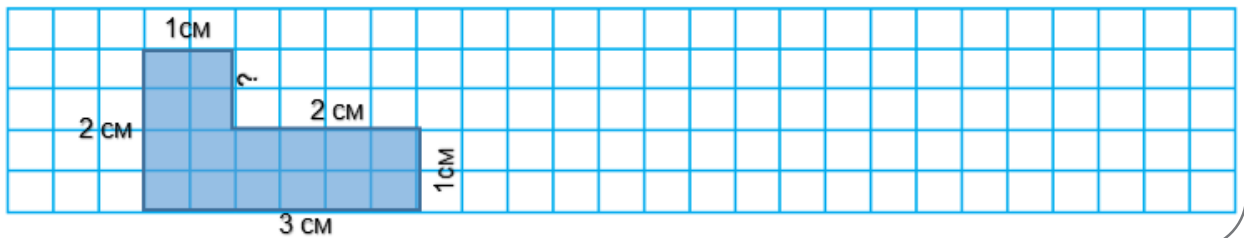
6 А. Харандаануудыг тэнцүү тоогоор багцлан зурна уу.




Б. Зураглалд тохирох илэрхийлэл бичээрэй.

$$\square \div \square = \square$$

7 Дараах дүрсийн хүрээний уртыг олоорой.



8 Охин 18 алимьг 6 тавганд тэнцүү хувааж хийлээ. Таваг тус бүрд хэдэн алим байхыг зураад, бодолтыг хоосон зайд хийгээрэй.



9 Хүүхдүүдийн түүсэн жимсийг хүснэгтэд дугуй дүрсээр бүртгэв.

● 2 кг илэрхийлнэ.

Саран	● ●
Төгөлдөр	● ●
Солонго	● ● ●
Билгүүн	?

А. Саран хэдэн кг жимс түүсэн бэ?



Б. Билгүүн 6 кг жимс түүсэн бол хүснэгтэд дугуй дүрсээр зураарай.