

Монгол хэл 3-р анги



1. Эхийг анхааралтай уншаад асуултын дагуу ажиллаарай. /3оноо/
 Чих

Гадаа хүйтэн байлаа. Энхээг гарах гэхэд нь эмээ нь:

-Миний хүү малгайгаа өмсөөрэй! гэв. Энхээг эмээгийнхээ үгийг огт дуулсан шинжгүй гарахад шинэхэн цас орсон байв. Тэр цасан дээр элдэв юмны дүрс зурж эхлэв. Тэгтэл гэнэт чих нь бахиар хавчих адил часхийн янгинан өвдөв. Энхээ:

-Би одоо эмээгийнхээ үгэнд орно гэж чихээ барин дэвхцэн уйлав. Гэвч хожимдсон байлаа.

А.Энхээ гадаа гараад юу хийсэн бэ? Зөв хариултыг сонгоод доторх дугуйг будаарай.



Б. Чи Энхээ найздаа юу гэж зөвлөмөөр байна вэ?

Handwriting practice lines for the answer to question B.

В. Өлийн улирлын байгалийн онцлогийг юутай зүйрлэж болох вэ?

Handwriting practice lines for the answer to question B.

2. Залгаврыг зөв залган бичээрэй.

/3оноо/

- занш
- үзэгд
- хээл
- өрс
- хийлц
- харай

- на
- нэ
- нө
- но


Blank lines for writing the correct suffixes from the list.

3.Өгүүлбэрийн төгсгөлд [] тохирох цэг тэмдгийг тавиад, хэлэх аялгыг нь тодорхойлж бичээрэй. / 4 оноо /

- Аавдаа тусалдаг сайн хүү юм []
- Чи өдөр бүр ном уншдаг уу []
- Өглөөний цайгаа тогтмол ууж байгаарай []
- Дасгал хөдөлгөөн чухал шүү []

4. Дараах үгсийн утгыг ялгасан 4-5 үгтэй өгүүлбэр зохион бичээрэй /3оноо/
/төрх, төрөх, нялх, нялах, хан, хана /

5. Загварыг ашиглан талархлын захидал бичээрэй. /3оноо/

 оны дугаар сарын

..... ?

Хайрт ахдаа энэ мэнд хүргэе. Дүүгийнхээ төрсөн өдрөөр миний хамгийн дуртай тоглоомыг бэлэг болгон ирүүлсэнд баярлалаа. задрахаараа таван төрлийн машин болдог үнэхээр

..... зуны амралтаараа танайд очно. Тоглоомынхоо ид шидийг үзүүлнэ ээ.

..... бичсэн:

.....

6. Үгсийн байрыг сольж Түргэн хэллэг бүтээгээрэй (2оноо)

/Аргагүй тэр хүрэн нуур Арын нуур том Авдрын нүүр тэр нүүр Алаггүй/

7.Хэлц үгийн утгыг тайлбарлан өгүүлбэрт оруулж бичээрэй. / 2оноо /

А.Хэлц үгийн утгыг тайлбарлах:

Барьц алдуулах-

Өдөр шөнө хоёр шиг.....

Б.Өгүүлбэр зохиох:

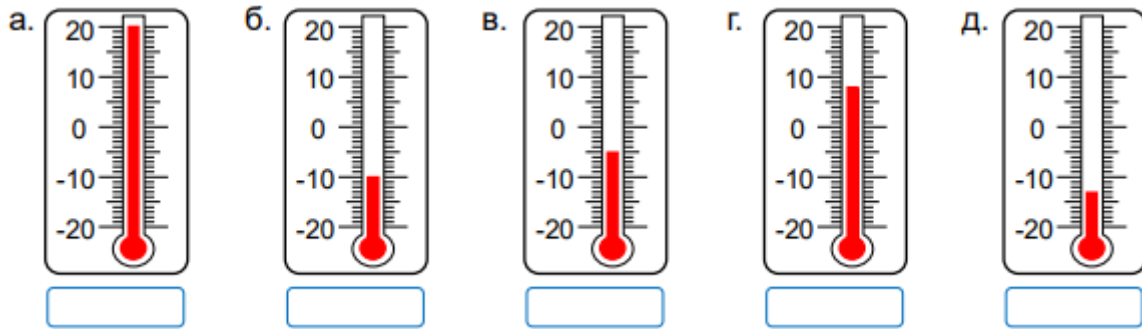
.....

.....

Математик 3-р анги

1. Термометрийн заалтыг бичээрэй.

/2.5 оноо/



2. Илэрхийллийн утгыг олоорой.

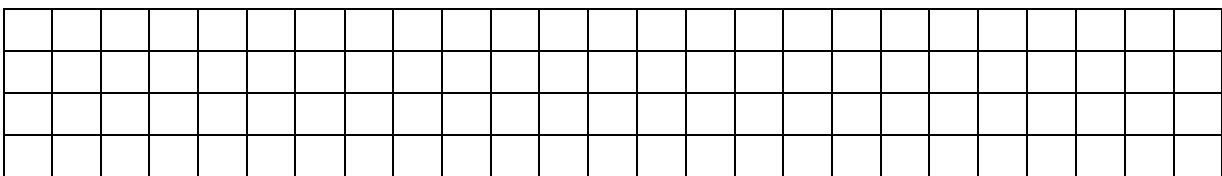
/ 2оноо/

$$5009 + 3125 : 25 \times 18 - 1206 =$$



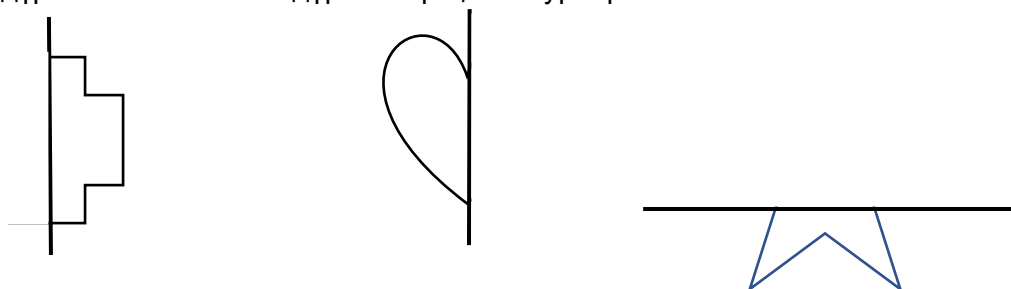
3. 100 литрийн том савтай ус байв. 8 литрийн багтаамжтай 6 саваар ус авсан. Том саванд хэдэн литр ус үлдсэн бэ?

/2 оноо/



4. Өгөгдсөн дүрсийн тэгш хэмтэй дүрсийг гүйцээж зураарай.

/1.5оноо/



5. Үйлдлийг гүйцэтгээрэй.

/2оноо/

$$28\text{км } 64\text{м} - 8\text{км } 790\text{м} =$$

$$5\text{дм } 17\text{см} + 15\text{см } 6\text{мм} =$$

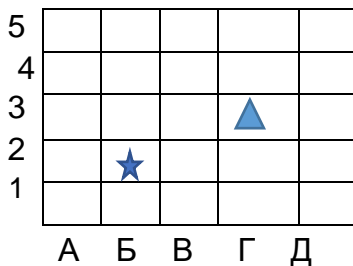
6. Зүй тогтлыг олоод дараагийн хоёр тоог бичээрэй.

/ 2 оноо /

- а. 256 ,268 ,280 , ..., ...,
- б. 800,, 740 , 710, ...,

7. Хүснэгтэд байгаа гурвалжин дүрсийг зүүн гар тийш 3 нүд, дээш 2 нүд, таван хошууг баруун гар тийш 2 нүд, дээш нэг нүд шилжүүлж зураад байршлыг бичээрэй.

/2 оноо/




Байршил:




.....

8. Амьтдын бүртгэлийг дараах хүснэгтэд өгсөн байна.


/2 оноо/



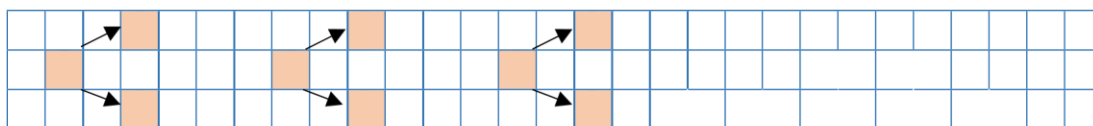
А) Амьтдын тоог бичээрэй.

| | | |
|---|---|--|
|  |  |  |
| 4 | | |

Б) Амьтдын тоог баганан диаграмм дээр будаж, дүрслээрэй.



9. 3,6,0,7 цифрүүдээр модны загвар хэрэглэн 2 оронтой тэгш тоог зохиогоорой. 2.5 оноо



6000-аас бага 4 оронтой тоо 2-ыг зохиож бичээрэй.



9. Туяа



цагт даалгавраа хийж эхлэв. Тэр даалгавраа 35 минутын хугацаанд хийсэн бол хэдэн цагт дууссан бэ?

[1 оноо]

.....