



БОЛОВСРОЛ,
ШИНЖЛЭХ УХААНЫ ЯАМ



БОЛОВСРОЛ, ШИНЖЛЭХ УХААНЫ ЯАМ
БОЛОВСРОЛЫН ҮНЭЛГЭЭНИЙ ТӨВ

ГҮЙЦЭТГЭЛИЙН ҮНЭЛГЭЭ-2023 БАГА БОЛОВСРОЛ



МАТЕМАТИК

БАГАНАН КОД
НААХ ХЭСЭГ

Аймаг / дүүрэг:

Сум / сургууль:

Анги / бүлэг:

Сурагчийн овог:

Сурагчийн нэр:

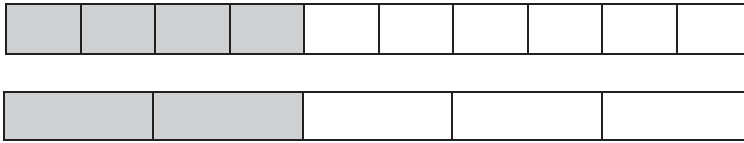
Сурагчийн код:



Засалтын хүснэгт

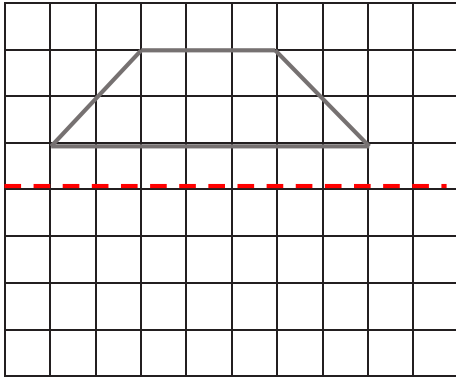
Даалгаврын дугаар		Авсан оноо
I		
II		
III		
IV		
V		
VI		
VII		
VIII	A	
	Б	
IX	A	
	Б	
X		
XI	A	
	Б	

6 Зургийг ажиглаад тэнцүү харьцаа зохиож бичээрэй.



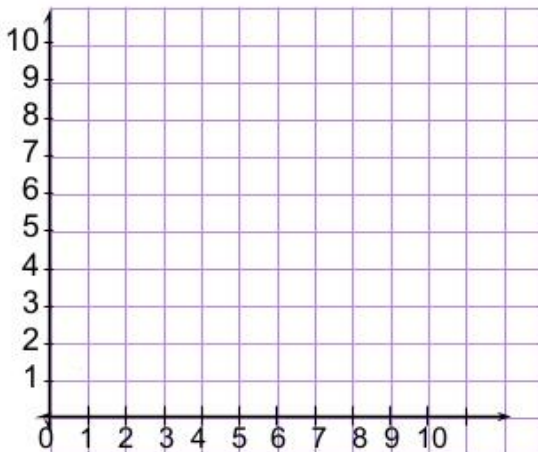
$$\square : \square = \square : \square$$

7



Дүрсийг өгсөн тэнхлэгийн хувьд тэгш хэмтэй зураарай.

8



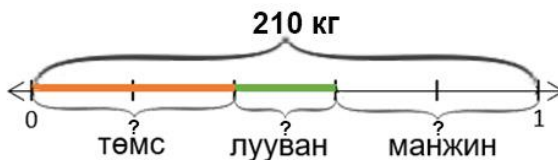
А. Өгсөн цэгийг координатын хавтгайд тэмдэглээд, холбож зураарай.

$$A(3; 4) \quad B(3; 7)$$

Б. Үүссэн хэрчмийг баруун гар тийш 4 нэгжээр зөөж зураарай.

9

Зураглалыг ажиглаад А, Б даалгавруудыг гүйцэтгээрэй.



А. Зураглалд тохирох нэг асуулт зохиогоорой.

.....

Б. Хүнсний ногоо тус бүрийн хэмжээг тооцоолоорой.



