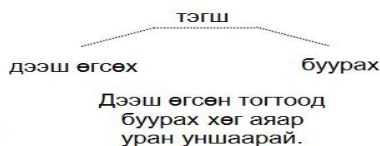


Монгол хэл 4-р анги

Шүлгийг дууны өнгөө тохируулан уншаарай.

**Баян ходоодны цол**

Энэ хүлгийн эзэн нь  
 Эндүүрч ташаарч бодсоноос  
 Уясан уяа нь багадаад  
 Унасан хүүхэд нь балчирдаад  
 Барьсан ташуур нь богинодоод  
 Үлий манхан тааралдаад  
 Үргэлж саатал тохиолдоод  
 Эрэг манхан дайралдаад  
 Элдэв хадуурал тохиолдоод  
 Үсэрч гарсан боловч  
 Үхэр тэрэг шиг хоцорч  
 Энэ жилийн баян ходоод  
 Ирэх жилийн баярын магнай  
 Бат түмний эх ээ!



1. Шүлэгт даага, хүү хоёрын ижил төстэй шинжийг хэрхэн харьцуулан адилтгасан байна вэ? Тус бүр 2 жишээ бичнэ үү. /2оноо/

Даага	Унаач хүү
.....	.....
.....	.....

2. Цэгийн оронд тохирох үгийг нөхөж бичээрэй. /өхөөрдсөн, зэмлэсэн/ /2оноо/

Баян ходоодны цол нь “Морины эзний урагшгүйгээс болоод уяа сойлго нь тааралгүй, унталт хэвтэлт нь ихдээд, уг ижлээс хоцроод, далай түмний нүдэн дээр даанч хөөрхий болголоо” хэмээн даагыг ....., залхуу эзнийг ..... утгатай.

3. Цэгийн оронд тохирох үгийг бичиж, өгүүлбэрийг гүйцээгээрэй. /4оноо/

- А. Өвөө үлгэр ..... ярив. /туйл, тууль/
- Б. .... голын хөвөөгөөр модод ургасан байв. /Туйл, Туул/
- В. Нүүхдээ гэрийн ..... сайн цэвэрлэх хэрэгтэй. / буйраа, бууриа/
- Г. .... дүрмээ сайн баримтлаарай. /Хуйл, Хууль/

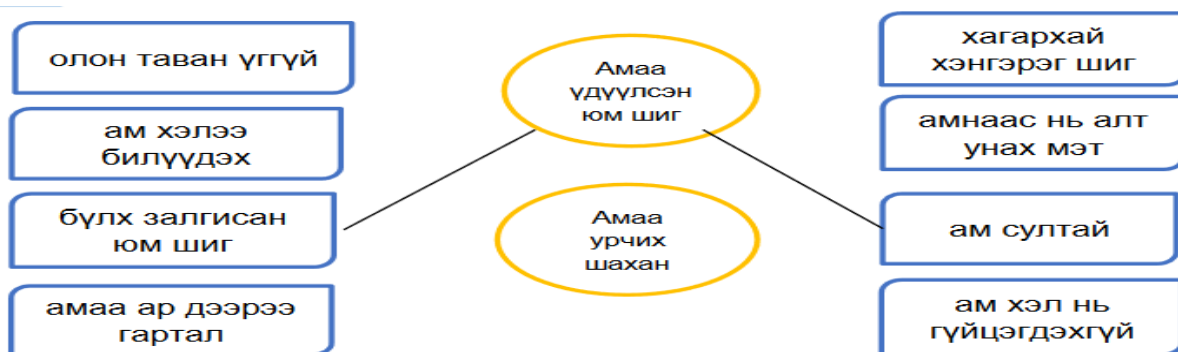
4. Ойролцоо утгатай үгээр солин, дуурайн зохиосон шүлгийг гүйцээгээрэй. /4оноо/

Миний гэр бүл	.....
Өвөө минь гэртээ уудам <b>тал</b>	Өвөө минь наддаа ..... <b>хөндий</b>
Эмээ минь гэртээ цэлмэг <b>тэнгэр</b>	Эмээ минь надаа ..... <b>дэлхий</b>
Аав минь гэртээ ханагар <b>уул</b>	Аав минь наддаа ..... <b>хангай</b>
Ээж минь гэртээ гэрэлт <b>наран</b>	Ээж минь наддаа ..... <b>ирээдүй</b>
Ах минь гэртээ ургаа <b>хад</b>	Ах минь наддаа ..... <b>баатар</b>
Эгч минь гэртээ гоёмсог <b>цэцэг</b>	Эгч минь наддаа ..... <b>гоо</b>
Дүү минь гэртээ бүжин <b>туулай</b>	Дүү минь гэртээ <b>борхон бамбарууш</b>
Би өөрөө ганган <b>эрвээхэй</b>	Би өөрөө ..... <b>шувуухай</b>

5.Өгүүлбэрт “Харин, яагаад гэвэл, ийм учраас” гэсэн холбох үгээс тохирохыг нөхөж бичээрэй. /Зоноо/









Болор өнөөдөр хичээлээсээ хоцорсон. . . . .  
 өчигдөр сэрүүлэг тавихаа мартсан байлаа.  
 Уянга шүлэг зохиох дуртай. . . . . яруу найргийн дугуйланд сурах болов.  
 Болд дугуй унах дуртай. . . . . Бат морь унах дуртай.

6.Ойролцоо утгатай хэлц үгийг холбоорой. /Зоноо/



7. “Харин, бас, ба, бөгөөд” гэсэн үгээр холбож, зурагт тохирох өгүүлбэр зохиогоорой. /Зоноо/

1 “Харин, бас, ба, бөгөөд” гэсэн үгээр холбож, зурагт тохирсон өгүүлбэр зохиогоорой

	Отгон нохойд яс өгсөн боловч тэр идсэнгүй. Харин тэр их цангасан бололтой ус уулаа.	
	_____	
	_____	
	_____	

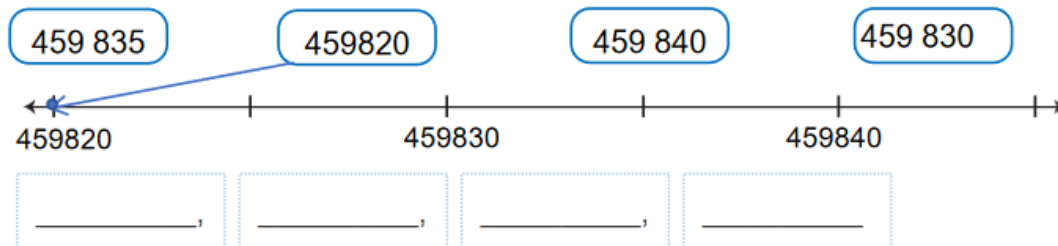
8. “Магнай тэнийх” гэсэн хэлц үгийн утгыг тайлбарлаад, ойролцоо утгатай хэлц үг 2-ыг бичнэ үү. /Зоноо/

Магнай тэнийх-.....  
 .....  
 .....  
 .....

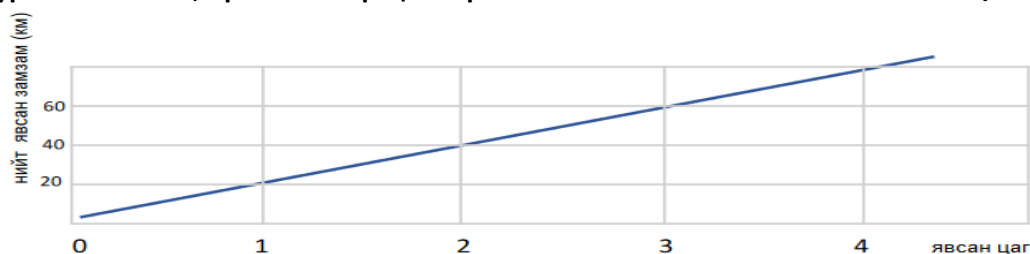
### Математик- 4р анги

- Онцолсон цифр нь уг тооны ямар орны утгыг илэрхийлж байна вэ? /2оноо/
  - 4708 ( *дөрвөн мянгатын орон* )
  - 54708 ( \_\_\_\_\_ )
  - 708 935 ( \_\_\_\_\_ )

- Тоонуудыг тоон шулуун дээр цэгээр тэмдэглэн, өсөх эрэмбээр бичээрэй. /2.5оноо/  
Тоонуудыг тоон шулуун дээр цэгээр тэмдэглэн, өсөх эрэмбээр бичээрэй.



- Зургийг ажиглан, хүснэгтийг гүйцээгээрэй. /2оноо/



Цагт явах зам (км)	20 км	20 км	20 км	20 км
Явсан цаг (цаг)	0	1	2	3
Нийт явсан зам (км)				

- Үргэлжлэх хугацааг тооцоолон, ээлжийн ажилчдын ажиллах хугацааг олоорой. /2оноо/

Хүнсний дэлгүүр 06:00 цагт нээж, орой 22:00 цагт хаадаг. Дэлгүүрийн ажилчид хоёр ээлжээр ажилладаг ба ээлж бүрийн ажиллах хугацаа тэнцүү бол нэг ээлжийн ажилчид нэг өдөрт хэдэн цаг ажилладаг вэ?


- Шингэний хэмжээг энгийн бутархайгаар илэрхийлээрэй. /2оноо/

Литрээр илэрхийлээрэй. Жишээ: 2 л 250 мл =  $2\frac{1}{4}$  л

а. 3 л 500 мл =   л

в. 29 л 100 мл =   л

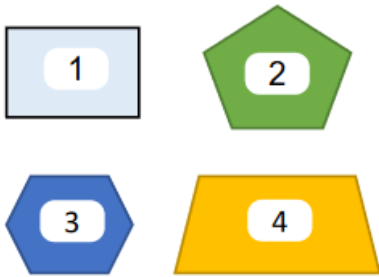
б. 12 л 200 мл =   л

г. 40 л 250 мл =   л

6. Олон өнцөгтүүдийг нэрлэж, өнцөг ба талын тоог хүснэгтэд бичээрэй.

/2оноо/

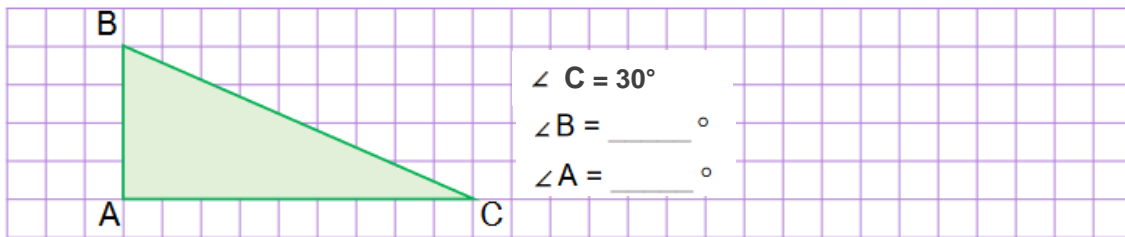
Хүснэгтэд бичээрэй.



№	Дүрсийн нэр	Өнцгийн тоо	Талын тоо
1			
2			
3			
4			

7. Өнцгүүдийн хэмжээг олж эрэмбэлээрэй.

/3оноо/



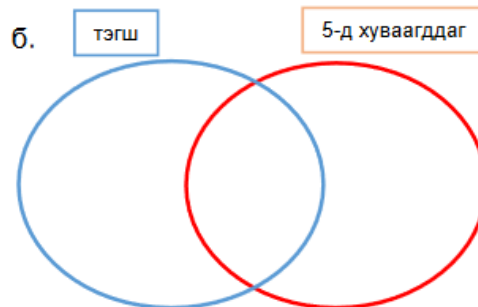
8. Өгсөн шинжүүдээр тоонуудыг ангилж бичээрэй.

/3.5 оноо/

48, 56, 79, 5432, 123, 125, 1000

а.

	тэгш	сондгой
5-д хуваагддаг		
5-д хуваагддаггүй		



9. Хүснэгтэд бүртгэсэн өгөгдлийг баганан диаграммаар дүрслээрэй.

/2оноо/

Нэгэн байрныхан хог хаягдлаа ангилж, дахивар хаягдлын хэмжээг хүснэгтэд бүртгэв. Дээрх өгөгдлийг баганан диаграммаар дүрслээрэй.

Хаягдал	Хэмжээ (кг)
шил	45
лааз	20
цаас	35
гялгар уут	10



Нийт- 21оноо