



БОЛОВСРОЛ,
ШИНЖЛЭХ УХААНЫ ЯАМ



БОЛОВСРОЛ, ШИНЖЛЭХ УХААНЫ ЯАМ
БОЛОВСРОЛЫН ҮНЭЛГЭЭНИЙ ТӨВ

ГҮЙЦЭТГЭЛИЙН ҮНЭЛГЭЭ-2023 БАГА БОЛОВСРОЛ



МАТЕМАТИК

БАГАНАН КОД
НААХ ХЭСЭГ

Аймаг / дүүрэг:

Сум / сургууль:

Анги / бүлэг:

Сурагчийн овог:

Сурагчийн нэр:

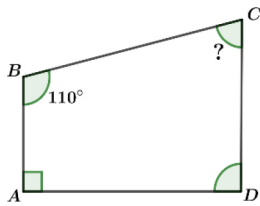
Сурагчийн код:



Засалтын хүснэгт

Даалгаврын дугаар		Авсан оноо
I		
II		
III		
IV		
V		
VI		
VII		
VIII		
IX		
X		
XI	A	
	Б	
XII	A	
	Б	
XIII	A	
	Б	

10 Дүрсийн мэдэгдэхгүй байгаа өнцгийн хэмжээг олоорой.




11




1. Шүдээ угаахдаа усаа хаалгүйгээр гоожуулан угаавал дунджаар 6 л орчим ус зарцуулна. Аяга ашигласнаар 0.6 л ус зарцуулна.

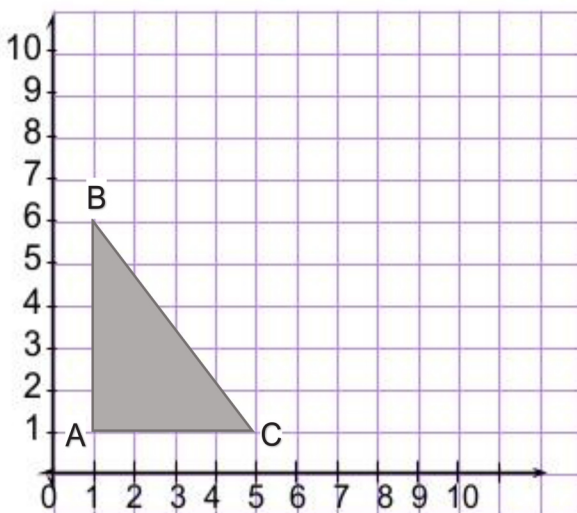
Гурван ам бүлтэй өрхийн гишүүн бүр өдөрт 2 удаа усаа гоожуулан шүдээ угааснаар хэдэн литр ус зарцуулах вэ?



Харин аяга ашиглаж угааснаар сард хэдэн литр ус хэрэглэх вэ?



12



А. Гурвалжны В оройн координатыг бичээрэй.

Б. Дүрсийг хэвтээ тэнхлэгийн дагуу баруун гар тийш 5 нэгж зайд параллелиар зөөж зураарай.

