

3-4-р ангийн БҮТЭЭЛЧ БАГАЧУУД УРАЛДААН

2-р
ҮЕ ШАТ:

АЙМАГ, ДҮҮРГИЙН ТҮВШНИЙ ШАЛГАРУУЛАЛТ

Аймаг / дүүрэг:

Сургууль:


Багийн нэр:

Найзууд аа!

“Бүтээлч багачууд” уралдаандаа амжилттай оролцож, сургуулиасаа шалгарсан та нартаа баяр хүргэе.


2-р шатны уралдаанд нь амжилт хүсье!





Зааврыг бүрэн уншиж,
дагаж мөрдөөрэй.

Амжилт хүсье!



Багийн нэр:.....

Багийн "хөх" гишүүний нэр:.....

Багийн "улаан" гишүүний нэр:.....


Багийн "шар" гишүүний нэр:.....

Багийн "ногоон" гишүүний нэр:.....


Багийн уриа:.....

Даалгавар:
Дэлгэгдэж, сунадаг ширээ бүтээх

Өнөөдөр Тэмүүлэнгийн төрсөн өдөр. Тэмүүлэн өөрийн 3 найзаа төрсөн өдөртөө урьжээ. Найзууд нь бүгд ирсэн ба хоёр найз нь нэг, нэг дүүгээ дагуулаад ирсэн байлаа. Тэмүүлэн, түүний зочид бүгд баярын ширээнд суух болжээ.



Тэмүүлэн баярын ширээгээ сунгаж
томруулах хэрэгтэй боллоо.
Хүүхдүүдээ Тэмүүлэндээ тусалцаая!



Анхаарах зүйлс:

1. Багаараа хамтарч ажиллах. Гишүүн бүр саналаа дэвшүүлэх, үүрэгтэй оролцох
2. Даалгаврын өгүүлэмжийг анхааралтай унших
3. Даалгаврын асуулттай анхааралтай танилцаж, тохирсон нэг хариулт ба оновчтой гүйцэтгэлийг багаараа хамтарч хийх
4. Даалгавар гүйцэтгэж эхэлсэн дууссан хугацааг заавал тэмдэглээрэй.
5. Даалгаврын хуудас дээр үзгээр бичээрэй.
6. Хийсэн даалгавраа сайн шалгаарай.

Даалгавар-1: Зочдын тоо

Хугацаа: 2 минут

Эхэлсэн хугацаа ____: ____




Асуулт:



Тэмүүлэнгийн төрсөн өдөрт бүгд хэчнээн зочид ирсэн бэ?

Анхаарах:

- Багийн гишүүн бүр өөрсдийнхөө хариуг бичицгээнэ.
- Эцсийн хариуг багаараа хэлэлцээд зөвхөн ганц, оновчтой хариуг бичнэ!



Багийн "хөх" гишүүний хариу:.....

Багийн "улаан" гишүүний хариу:.....

Багийн "шар" гишүүний хариу:.....

Багийн "ногоон" гишүүний хариу:.....

Багийн эцсийн зөв хариу:.....

Яагаад?.....

.....

Дууссан хугацаа ____: ____

Даалгавар-2

Хугацаа: 10 минут


Эхэлсэн хугацаа ____: ____

Заавар:



“Зэрэгцээ тахир гол”-ын ажиллах зарчмыг зургаар дэлгэрэнгүй дүрслэн үзүүлж, хөдөлгөөнийг нь тайлбарлах.

Анхаарах:



- Зэрэгцээ тахир гол нь ямар хөдөлгөөн хийж байгааг дүрслэх
- Уг хөдөлгөөнд юу өөрчлөгдөхгүй байгааг тоочих.

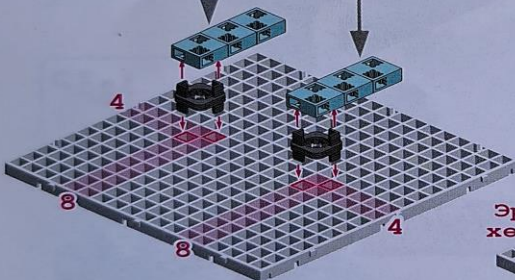
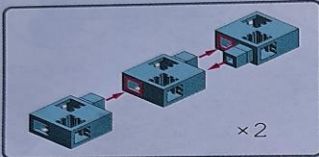
Зэрэгцээ тахир голын ажиллах зарчмыг ажиглаарай.

Зэрэгцээ тахир гол

Параллель тахир голтой хөшүүргэн дамжуулга нь параллелограмм дүрстэй, ижил урттай хоёр хөшүүрэг нь еед өөдөөсөө харж байрласан хос тахир голтой хөшүүргэн дамжуулга юм.

Зэрэгцээ тахир голыг хийцгээе!

1

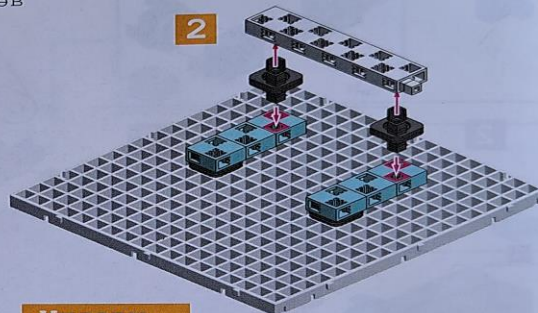


Шалгацгаая!

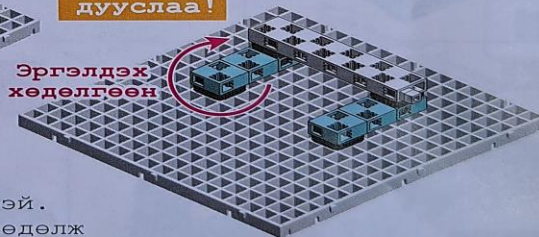
Тохир голын нэгийг хөдөлгөөрэй. Хөшүүргэн дамжуулга хэрхэн хөдөлж байна вэ?



2




Угсарч дууслаа!



Даалгавар-2

А. “Зэрэгцээ тахир гол”-ын ажиллах зарчмыг зургаар дүрслэх



Б. Зурсан зургаа тайлбарлах, хөдөлгөөнүүдийг нь тоочих

.....

.....

.....

.....

.....

.....

.....

Дууссан хугацаа ____: ____









Даалгавар-3

Хугацаа: 3 минут

Эхэлсэн хугацаа _____: _____

Багийн гишүүд “Баярын ширээ”-г угсрахад хэрэгтэй хэрэглэгдэхүүн бүрийг өнгө, тоо ширхгээр нь бүртгэж авна.

Асуулт: Нийт хэдэн ширхэг хэрэглэгдэхүүн ашигласан бэ?

№	Хэрэглэгдэхүүн	Нэр	Тоо ширхэг
1		“Үндсэн суурь” Цагаан өнгөтэй	2 ширхэг
2		“Хагас блок” Цайвар цэнхэр өнгөтэй	20 ширхэг
3		“Эргэдэг блок” Хар өнгөтэй	10 ширхэг
4		“Бүтэн блок” Ногоон өнгөтэй	4 ширхэг
5		“Том араа” Улаан өнгөтэй	1 ширхэг
6		“Жижиг араа” Улаан өнгөтэй	1 ширхэг
7		“Хагас блок” Шар өнгөтэй	2 ширхэг
8		“Дамар, эргэх холбогч” цагаан өнгөтэй	1 ширхэг /багц/

Дууссан хугацаа _____: _____

Даалгавар-4

Хугацаа: 15 минут


Эхэлсэн хугацаа ____: ____

Өгөгдсөн зургийн дагуу “Баярын ширээ”-г угсрах.



Бяцхан тусламж

2-р даалгавар дээр хийсэн “Зэрэгцээ тахир гол”-ын ажиллах зарчмыг ашиглана




Анхаарах:

- “Баярын ширээ” өгөгдсөн зураг дээрхтэй адил байна.
- Цагийн зүүний дагуу болон эсрэг аль ч зүгт ширээг бүтэн тойргоор хөдөлгөхөд ямар ч саадгүй байхаар угсарна.



Зураг 1,2,3,4,5 –аас санаа аваарай




Зураг 1





Зураг 2




Зураг 3






Зураг 4



Зураг 5



Угсарсан ширээнийхээ урт, өндрийг хэмжих

№	Ширээний Зураг	Ширээний төлөв	Хэмжээ /см/
1		Сунгаагүй байх үед	Уртын хэмжээ/см/
2		Ширээг сунгасан үед	Уртын хэмжээ/см/
3		Сунгаагүй байх үед	Өндрийн хэмжээ/см/

.....

.....

.....

.....

.....

Дууссан хугацаа _____: _____


Даалгавар-5

Хугацаа: 5 минут


“Баярын ширээ”-г угсрахад ашиглагдаагүй үлдсэн хэрэглэгдэхүүнээр “Баярын бялуу”-г өөрсдийн санаагаар бүтээнэ.

Анхаарах:

- “Баярын бялуу”-г тэгш хэмтэй, бүтээлчээр угсарч ширээн дээрээ суурилуулна.



Жишээ зураг



Дууссан хугацаа _____ : _____

Даалгавар-6

Бичлэг хийх: 3-5 минут

Эхэлсэн хугацаа ____: ____


Өнөөдрийн багийн ажлаа 5 минутад тайлбарлаж, шүүгчдэд танилцуулаарай.

Анхаарах:

Бичлэгт ширээний загварыг бүтэн, тал бүрээс харагдахаар дэлгэх, сунах ажиллагааг тодорхой харагдахаар оруулна уу.

Тайлбарыг дараах чиглэлээр хийнэ. Уралдааныг зохион байгуулагч чиглүүлж асууна.

- А. Ширээгээ шүүгчдэд дэлгэж, сунгаж харуулна уу.
- Б. Танай багийнхан зорьсон ширээгээ бүтээж чадсан уу?
- В. Өнөөдрийн даалгавар гүйцэтгэх явцад хэцүү зүйл байсан уу? Түүнийг хэрхэн шийдсэн бэ?



Дууссан хугацаа ____: ____

Бүтээлч багачууддаа баярлалаа.

Бичлэг хийх 5 минутад шилдэг багийн багш саналаа бичнэ.

Багшийн санал

Уг даалгавруудыг хийхэд ойлгомжгүй,
хэтэрхий төвөгтэй байсан тохиолдлуудаа
бичээрэй.

Шинэ санал, санаачилга байвал бичиж
бидэнд туслаарай. Баярлалаа



.....

.....

.....

.....

Танд баярлалаа.